

◆各問題について、自分で自信があるかないか、マークに○をつけましょう。

😊 自信あり 😊 まあまあ自信あり 😞 少し自信なし 😫 自信なし

5年

4. 三角形・四角形の角

クラス	名
	組前

1 □にあてはまる数をかきましょう。

① 三角形の3つの角の大きさの和は □° です。

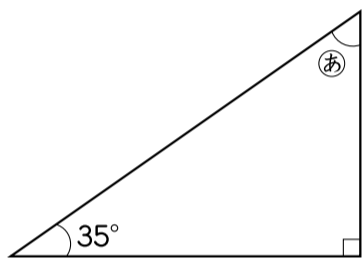
② 四角形は、1つの頂点^{ちようてん}から対角線をひくと □ つ

の三角形に分けられるので、四角形の4つの角の大

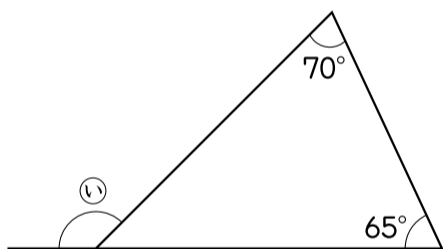
きさの和は、 □° × □ で □° です。

😊 😊 😞 😫

2 下の図のあ、いの角の大きさは、それぞれ何度ですか。



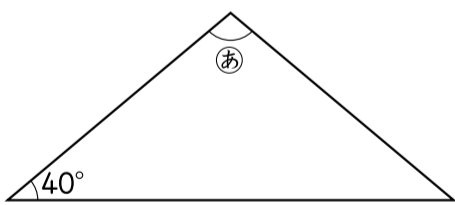
あ ()



い ()

😊 😊 😞 😫

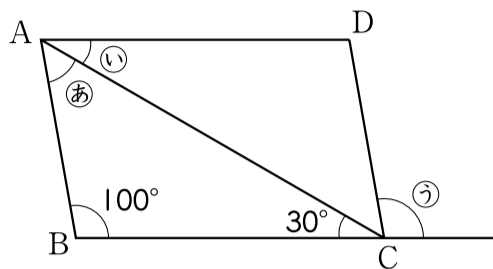
3 下の二等辺三角形のあ^あの角の大きさは何度ですか。



()

😊 😊 😞 😫

4 下の平行四辺形^{エービーシーデー} ABCD で、あ、い、うの角の大きさは、それぞれ何度ですか。



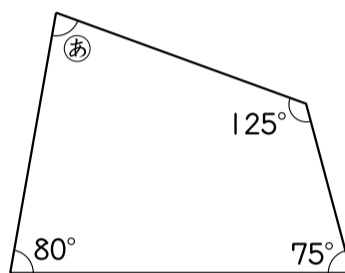
あ ()

い ()

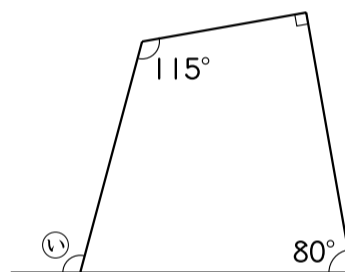
う ()

😊 😊 😞 😫

5 下の図のあ、いの角の大きさは、それぞれ何度ですか。



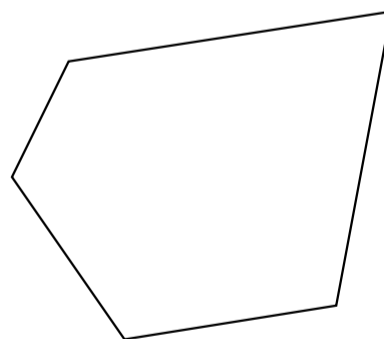
あ ()



い ()

😊 😊 😞 😫

6 下の五角形の5つの角の大きさの和は何度ですか。1つの頂点から対角線をひいて考えましょう。



()

😊 😊 😞 😫

(三角形・四角形の角) の学習をふりかえって

★ この学習は楽しかったですか。

(はい まあまあ 少し いいえ)

◆ この学習はよくわかりましたか。

(はい まあまあ 少し いいえ)

● 感想を自由にかきましょう。(授業^{じゆぎょう}の中で、おもしろかったことや気づいたことなど)